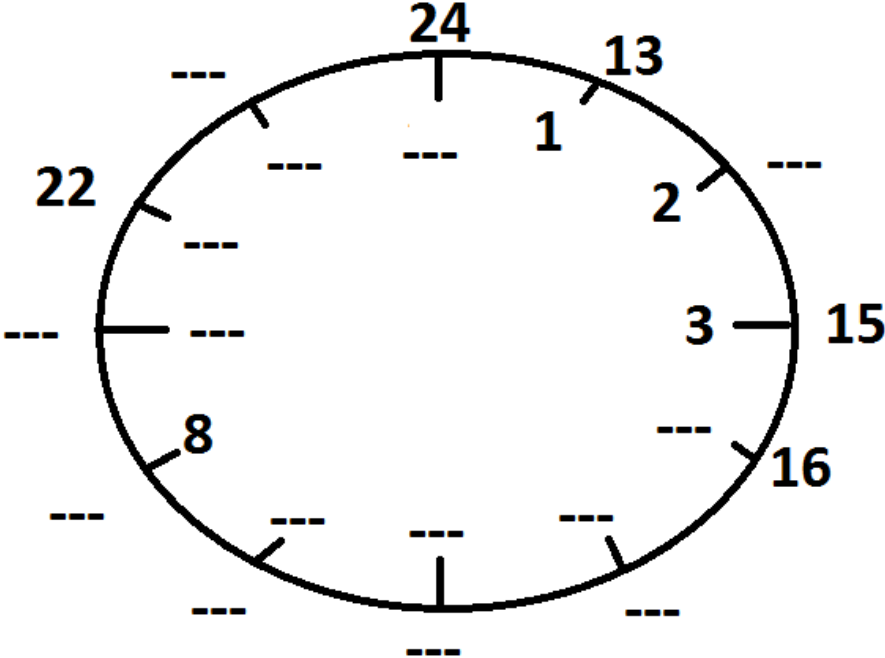
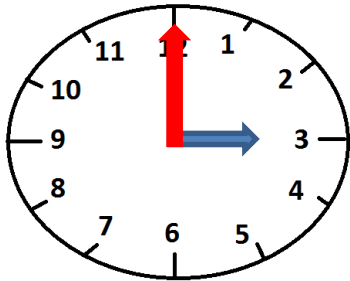


Beschrifte die Uhr mit den richtigen Zahlen



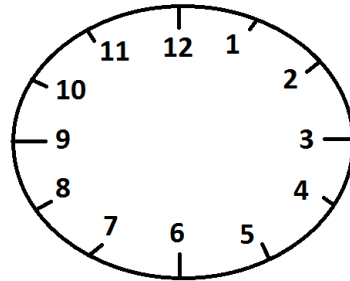
Ganze Stunden

Male die Zeiger und notiere die Uhrzeiten:



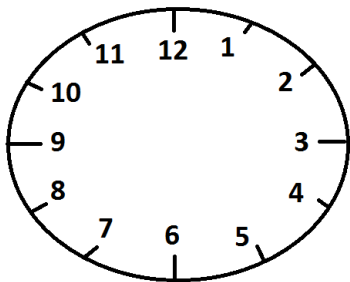
3 Uhr

oder 15 Uhr



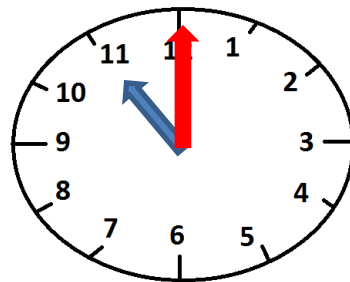
9 Uhr

oder __ Uhr



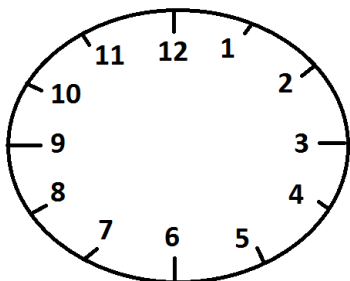
__ Uhr

Oder 19 Uhr



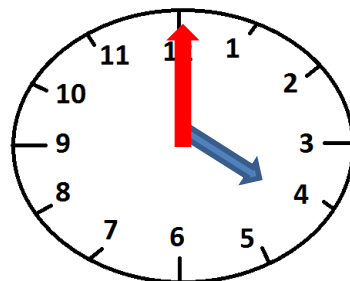
__ Uhr

oder __ Uhr



__ Uhr

oder 13 Uhr

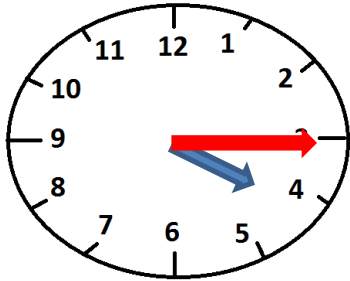


__ Uhr

oder __ Uhr

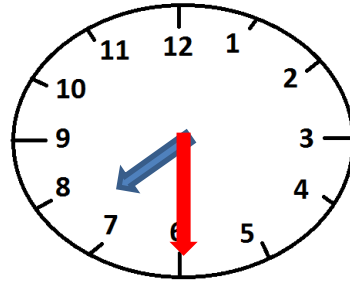
Halbe- und Viertelstunden

Male die Zeiger und notiere die Uhrzeiten:



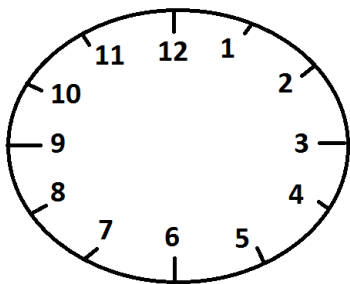
4:15 Uhr

oder 16:15 Uhr



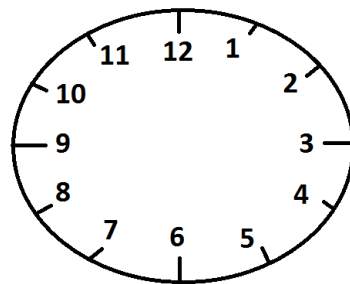
__:__ Uhr

oder __:__ Uhr



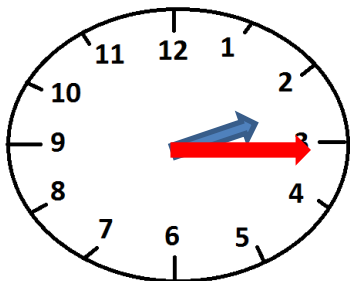
6:45 Uhr

Oder __:__ Uhr



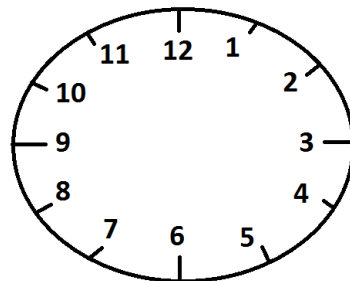
__:__ Uhr

oder 23:30 Uhr



__:__ Uhr

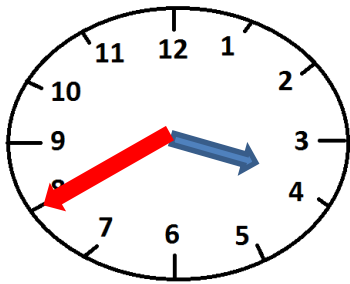
oder __:__ Uhr



__:__ Uhr

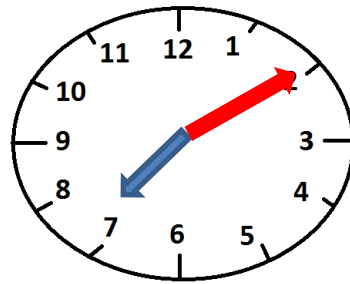
oder 16:45 Uhr

Male die Zeiger und notiere die Uhrzeiten:



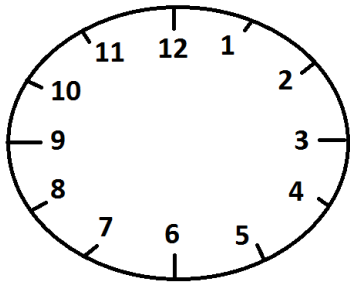
3:40 Uhr

oder 15:40 Uhr



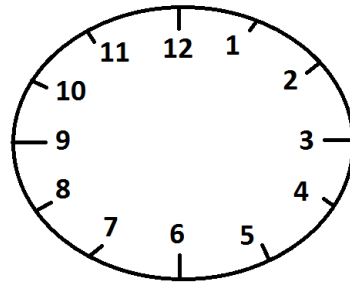
__:__ Uhr

oder __:__ Uhr



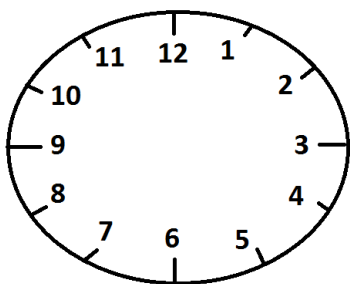
6:05 Uhr

oder __:__ Uhr



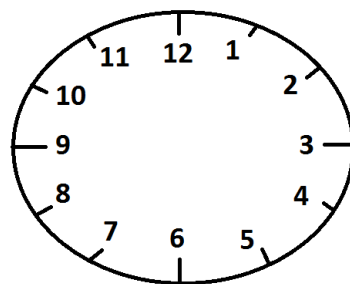
__:__ Uhr

oder 23:38 Uhr



2:25 Uhr

oder __:__ Uhr



__:__ Uhr

oder 17:50 Uhr