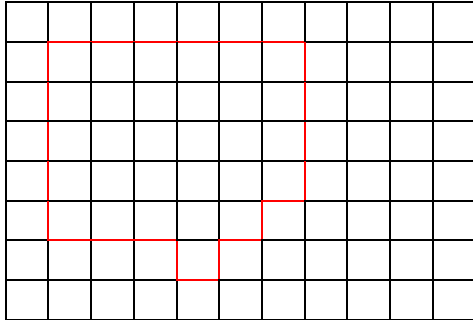


Zeichne Figuren mit den entsprechenden Umfang und Flächeninhalt:

Achtung: Alle Lösungen sind Beispiele. Es sind auch andere Lösungen möglich!

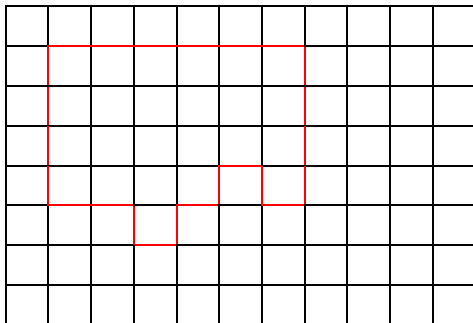
Fläche: 30 Kästchen

Umfang: 24 Kästchenlängen



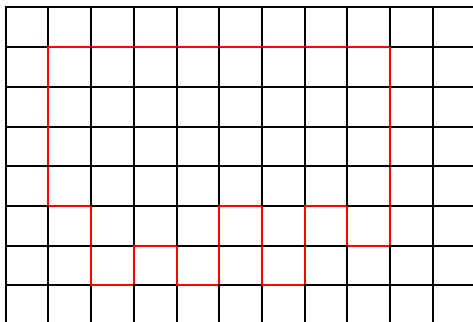
Fläche: 24 Kästchen

Umfang: 24 Kästchenlängen



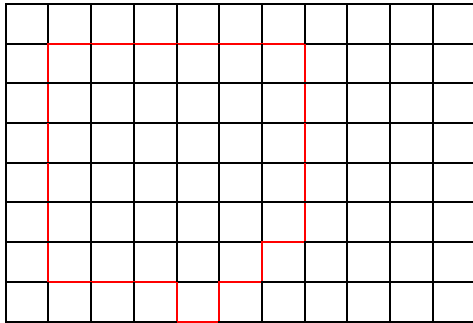
Fläche: 40 Kästchen

Umfang: 36 Kästchenlängen



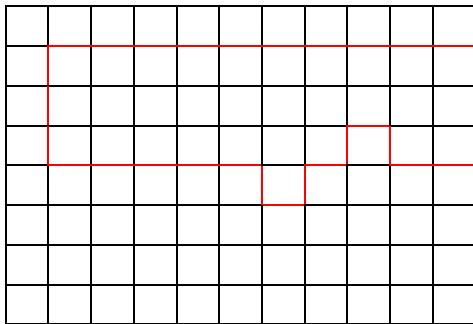
Fläche: 36 Kästchen

Umfang: 26 Kästchenlängen



Fläche: 30 Kästchen

Umfang: 30 Kästchenlängen



Fläche: 28 Kästchen

Umfang: 24 Kästchenlängen

